

- පහත වගුවේ දැක්වෙන තොරතුරු ආශ්‍රයෙන් අංක 9 සිට 12 දක්වා ප්‍රශ්න වලට පිළිතුරු සපයන්න.

A	B	C	D
න, ත, තිං,	ගෙ, ග, ගි, කි,	ධිං, ධ,	X 0 2 3

- (9.) තබ්ලාවේ දායාං සහ බායාං යන කොටස් දෙකම එකවර වාදනය කිරීමෙන් නිපදවා ගත හැකි අවනද්ධ අක්ෂර ඇතුළත් තීරුව වන්නේ,
- (1) A තීරුව. (2) D තීරුව.
(3) C තීරුව. (4) B තීරුව.
- (10.) තබ්ලාවේ දායාං කොටසින් පමණක් නිපදවා ගත හැකි අවනද්ධ අක්ෂර ඇතුළත් තීරුව වන්නේ,
- (1) D තීරුව. (2) A තීරුව.
(3) C තීරුව. (4) B තීරුව.
- (11.) තබ්ලාවේ බායාං කොටසින් පමණක් නිපදවා ගත හැකි අවනද්ධ අක්ෂර ඇතුළත් තීරුව වන්නේ,
- (1) B තීරුව. (2) A තීරුව.
(3) C තීරුව. (4) D තීරුව.
- (12.) ඉහත D තීරුවෙහි ඇති තාල සංඥා හතරම යොදා ප්‍රස්තාර කළ හැකි නිර්දේශිත තාල තුනක නම් ඇතුළත් පිළිතුර වන්නේ,
- (1) දාදරා තාලය, ත්‍රිතාලය, කෙහෙර්වා තාලය. (2) දීප්වන්දි තාලය, ත්‍රිතාලය, කෙහෙර්වා තාලය.
(3) කුච්ප් තාලය, ත්‍රිතාලය, දාදරා තාලය. (4) දීප්වන්දි තාලය, ත්‍රිතාලය, කුච්ප් තාලය.
- (13.) සුළු මැදුම් දෙකිනට අයත් බෙරපදයක් ලියා ඇති පිළිතුර තෝරන්න.
- (1) දො ට/ජ් ට ත/ග ත/දො ට ත/
(2) දො මි/කි ත/කි ත/දො මි/
(3) දො දො ට ත/ත කු දො ට
(4) දො ට ජ්/ජ් ග ත /
- (14.) දීප්වන්දි තාලයට අනුව ගායනා කළ හැකි ගීතයක් දක්වා ඇති පිළිතුර තෝරන්න.
- (1) “ලංකා ලංකා පෙම්බර ලංකා” යන ගීතය.
(2) “රන් මලක් ලෙස දෙව් බඹුන් දෝතින්” යන ගීතය.
(3) “සු නිල් වන් නුවන් යුග වසා” යන ගීතය.
(4) “ඕලු නෙළුම් නෙරිය රඟාලා” යන ගීතය.
- (15.) පෙරදිග සංගීත භාණ්ඩ වර්ගීකරණය ට අනුව සර්පිනාව සහ තබ්ලා අයත් වන්නේ
- (1) අවනද්ධ සහ සුෂිර වර්ග වලටය. (2) සන සහ අවනද්ධ වර්ග වලටය.
(3) සුෂිර සහ අවනද්ධ වර්ග වලටය. (4) තත් සහ අවනද්ධ වර්ග වලටය.
- (16.) “රූ රැසේ අදිනා ලෙසේ අත් ලෙලදිදී විදුලිය පබා” මෙම ගී පාදයෙහි යෙදෙන සදැස්මත් සහ ගීමත් ගණන දැක්වෙන පිළිතුර තෝරන්න.
- (1) සදැස්මත් 26, ගීමත් 14 (2) සදැස්මත් 28, ගීමත් 28
(3) සදැස්මත් 24, ගීමත් 26 (4) සදැස්මත් 26, ගීමත් 28
- (17.) තාලයක් හා වාක්තයක් පදනම්ව නිර්මාණය වූ වන්නම් විශේෂය වන්නේ,
- (1) උඩරට වන්නම් (2) නෙයසි වන්නම්
(3) සබරගමුව වන්නම් (4) පහතරට වන්නම්

(18.) නාට්‍යයේ නම හා ඊට අදාළ ගීතය නිවැරදිව ඇතුළත් වරණය කුමක් ද?

- (1) රතු හැට්ටකාරී - සෝබාව දේ
- (2) කාරාවෝ ඉගිලෙති - අපි කිරිල්ලියෝ
- (3) රතඳර සිරි පරදන - කුස පබාවතී
- (4) අබුද්දස්ස කෝලම - පළමුව මම වැන්ද බුදුන්

• පෙරදිග හා අපරදිග සංගීතයෙහි විශිෂ්ට සේවයක් සිදුකළ සංගීතඥයින් සිව්දෙනෙකු සම්බන්ධව විස්තර පහතින් දක්වා ඇත. එම තොරතුරු ආශ්‍රයෙන් අංක 19 සිට 22 දක්වා ප්‍රශ්න වලට පිළිතුරු සපයන්න.

- A. කෝරල් සහ එරොයිකා වැනි විශිෂ්ට සිම්ෆනි නිර්මාණය කර ඇත.
- B. තබලා වාදනය පිළිබඳ ප්‍රවීණත්වය සමගින් ලෝකයේම ජනප්‍රියත්වයට පත් වූ මෙතුමා සංගීත නිර්මාණ සඳහා ද දක්ෂතා දක්වා ඇත.
- C. ඉතාලි ජාතික මෙම සංගීතඥයා **Acropolis, Tribute** ලෝකයේ ම ප්‍රසිද්ධ සමූහවාදන නිර්මාණ රාශියක් සිදු කර ඇත.
- D. අති දක්ෂ ශාස්ත්‍රීය සිතාර් වාදන ශිල්පියකු වන මෙතුමා බටහිර සංගීතය සමඟ සිතාරය නිර්මාණාත්මක ව මුසු කරමින් ප්‍රසංග ඉදිරිපත් කර ඇත.

(19.) ලුඩවිග් වැන් බීතෝවන් සංගීතඥයා හා සම්බන්ධ වගන්තිය ඇතුළත් ඉංග්‍රීසි අක්ෂරය කුමක් ද?

- (1) A අක්ෂරය. (2) B අක්ෂරය. (3) C අක්ෂරය. (4) D අක්ෂරය.

(20.) යානි සංගීතඥයා පිළිබඳ තොරතුරු ඇතුළත් ඉංග්‍රීසි අක්ෂරය කුමක් ද?

- (1) A අක්ෂරය. (2) B අක්ෂරය. (3) C අක්ෂරය. (4) D අක්ෂරය.

(21.) ෂකීර් හුසේන් සංගීතඥයා පිළිබඳ තොරතුරු ඇතුළත් ඉංග්‍රීසි අක්ෂරය කුමක් ද?

- (1) A අක්ෂරය. (2) B අක්ෂරය. (3) C අක්ෂරය. (4) D අක්ෂරය.

(22.) පණ්ඩිත් රවී ශංකර් සංගීතඥයා පිළිබඳ තොරතුරු ඇතුළත් ඉංග්‍රීසි අක්ෂරය කුමක් ද?

- (1) A අක්ෂරය. (2) B අක්ෂරය. (3) C අක්ෂරය. (4) D අක්ෂරය.

(23.) සංගීත නිර්මාණයේ දී උතුරු ඉන්දීය සංගීතයේ ආභාසය ලබා ඇති රංග සම්ප්‍රදාය කුමක් ද?

- (1) කෝලම් (2) නූර්ති (3) නාඩගම් (4) සොකරි

(24.) සොකරි රංග සම්ප්‍රදාය හා බැඳී ඇත්තේ,

- (1) පහතරට ශාන්ති කර්මවල නාද රටාය (2) සබරගමු ශාන්ති කර්මවල නාද රටාය
- (3) උඩරට ශාන්ති කර්මවල එන නාද රටාය (4) ජන සංගීතයේ එන නාද රටාය

(25.) මද්දලය හා හොරණුව යොදා ගන්නා ලද රංග සම්ප්‍රදාය කුමක් ද?

- (1) නූර්ති (2) සොකරි (3) නාඩගම් (4) කෝලම්

(26.) නාදයේ ත්‍රිවිධගුණ තාරතාවය, විපුලතාවය සහ ධ්වනිගුණය යන නම්වලින් විද්‍යාවේ දී හැඳින්වේ. ඒ සඳහා පෙරදිග සංගීතයේ හඳුන්වන ආකාරය පිළිවෙලින් දැක්වෙන පිළිතුර තෝරන්න.

- (1) උච්චනීව හේදය, ජාතිහේදය, ජූරූප හේදය
- (2) ජාතිහේදය , උච්චනීව හේදය, ජූරූප හේදය
- (3) රූප හේදය, ජාතිහේදය , උච්චනීව හේදය, ,
- (4) උච්චනීව හේදය, රූප හේදය, ජාතිහේදය

(27) “ස” ස්වරයේ සංඛ්‍යාතය 256Hz නම් “ග” ස්වරයේ සහ “ධ” ස්වරයේ සංඛ්‍යාතයන් අනුපිළිවෙලින් සඳහන් පිළිතුර කුමක් ද?

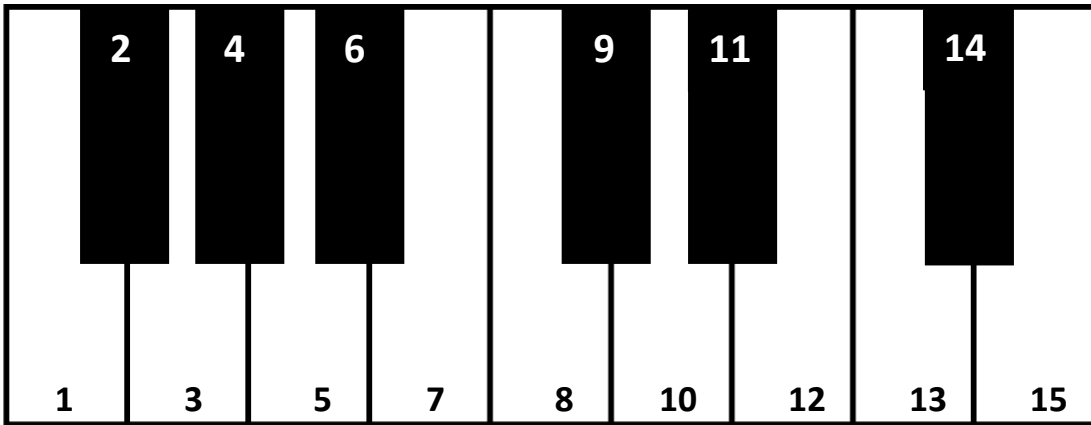
- (1) 288Hz - 480Hz (2) 320Hz - 340Hz (3) 340Hz - 426Hz (4) 320Hz - 426Hz

(28.) “සංගීත සම්භවය”, “විශ්ව සංගීත ක්ෂේත්‍ර” වැනි ග්‍රන්ථ රාශියක් නිර්මාණය කළ ශ්‍රී ලාංකීය සංගීතඥයා කවරුන් ද?
 (1) ලයනල් රංවල මහතා (2) රෝහණ බැද්දගේ මහතා
 (3) ඩබ්.බී. මකුලොලුව මහතා (4) සී ද එස් කුලතිලක මහතා

(29.) ක්‍රි. ව. 1505 දී පමණ පෘතුගීසි පාලන සමයේ මෙරට ව්‍යාප්ත වූ සංගීතාංගය වන්නේ,
 (1) කපිරිඤ්ඤා ගීත (2) කවිවාලි ගීත (3) පසන් ගීත (4) හජන් ගීත

(30.) වික්‍රපට තේමා ගීතයකට වඩා සංධිවනියක මෙන් වාද්‍ය සංගීත ලක්ෂණ ඇතුළත් ,සෝමදාස ඇල්විටිගල මහතා සංගීත අධ්‍යක්ෂණය කළ වික්‍රපටය සහ තේමා ගීතය ඇතුළත් පිළිතුර කුමක් ද?
 (1) රේඛාව - ඕලු නෙළුම් නෙරිය රඟාලා (2) සන් සමුදුර - සිනිඳු සුදු මුතු තලාවේ
 (3) සැඩ සුළං - මා ප්‍රියාදර ජයගුම් (4) රේඛාව - සුදු සඳ එළියේ

• අංක 31 සිට 35 දක්වා ප්‍රශ්නවලට පහත ස්වර පුවරු රූප සටහන ඇසුරින් පිළිතුරු සපයන්න.



(31) ස්වර පුවරු රූප සටහනේ 3, 8, 12 යතුරු එකවර වාදනය කිරීමෙන් ලැබෙන chord එක කුමක් ද?
 (1) F Major (2) G Major (3) C Major (4) B Major


(32) F Major ස්කේලය සඳහා වාදනය කළයුතු යතුරු වලට හිමි අංක ඇතුළත් පිළිතුර වන්නේ .
 (1) 1 3 5 6 8 10 12 13 (2) 3 5 7 8 10 12 14 15
 (3) 1 3 5 7 8 10 12 13 (4) 3 5 7 8 10 12 13 15

(33) ස්වර පුවරු රූප සටහනේ 3, 6, 10 යතුරු එකවර වාදනය කිරීමෙන් ලැබෙන chord එක කුමක් ද?
 (1) F Minor (2) G Major (3) G Minor (4) B Minor

(34) අංක 2 හා 11 ට හිමි ස්වර බටහිර සංගීතයේ දී නම්කළ හැකි ආකාරය දැක්වෙන පිළිතුර කුමක් ද?
 (1) D#, C# (2) F#, E^b (3) F#, C# (4) A#, E^b

(35) C Minor කෝඩ්ස් සඳහා වාදනය කළ යුතු යතුරු වලට හිමි අංක ඇතුළත් පිළිතුර කුමක් ද?
 (1) 1, 4, 8 (2) 5, 8, 12 (3) 1, 6, 8 (4) 8, 11, 15

- පහත දැක්වෙනුයේ තත් වාද්‍ය භාණ්ඩ හතරක රූප සටහන් ය. ඒ ඇසුරෙන් අංක 35 සිට 39 දක්වා ප්‍රශ්නවලට පිළිතුරු සපයන්න.



(36) අළුවකින් (Bow) වයනු ලබන භාණ්ඩ යුගලයට අයත් ඉංග්‍රීසි අක්ෂර ඇතුළත් පිළිතුර කුමක් ද?

- (1) A සහ D ය. (1) B සහ D ය. (1) C සහ D ය. (1) A සහ B ය.

(37) ස්වර පිහිටීම සමාන වන සංගීත භාණ්ඩ යුගලයට අයත් ඉංග්‍රීසි අක්ෂර යුගලය වන්නේ,

- (1) A සහ C ය. (1) A සහ D ය. (1) B සහ D ය. (1) A සහ B ය.

(38) ඉහත A, B, C, D, සංගීත භාණ්ඩවල ඇති ප්‍රධාන තත් ගණන සඳහන් පිළිතුර කුමකු ද?

- (1) A - 5, B - 4, C - 7, D - 4 (2) A - 4, B - 4, C - 6, D - 5
 (3) A - 4, B - 4, C - 6, D - 7 (2) A - 4, B - 4, C - 4, D - 7

(39) ඉහත C සහ D භාණ්ඩ යුගලය වාදනය සඳහා යොදාගන්නා උපකරණ පිළිවෙලින් සඳහන් පිළිතුර කුමක් ද?

- (1) පික් (Pick) සහ මිස් රාබ් (2) මිස් රාබ් සහ පික් (Pick)
 (1) අළුව (Bow) සහ මිස් රාබ් (2) අළුව (Bow) සහ පික් (Pick)

(40) පරිගණක ආශ්‍රිත සංගීත නිර්මාණය සඳහා යොදාගන්නා මෘදුකාංගයක් වන්නේ

- (1) Adobe InDesign (2) Adobe Illustrator (3) Cubase (4) Microsoft Office


 වයඹ පළාත් අධ්‍යාපන දෙපාර්තමේන්තුව Provincial Department of Education
 වයඹ පළාත් අධ්‍යාපන දෙපාර්තමේන්තුව Provincial Department of Education වයඹ පළාත් අධ්‍යාපන දෙපාර්තමේන්තුව Provincial Department of Education
Provincial Department of Education - NWP

40	S	II
----	---	----

පෙරහුරු පරීක්ෂණය - 11 ශ්‍රේණිය - 2023
පෙරදිග සංගීතය - II

නම/විභාග අංකය : කාලය : පැය 02යි.

පළමුවන ප්‍රශ්නය ඇතුළු ව ප්‍රශ්න පහකට පමණක් පිළිතුරු සපයන්න.
 සියලු ම ප්‍රශ්න සඳහා ලකුණු 12 බැගින් හිමිවේ.

(1.)

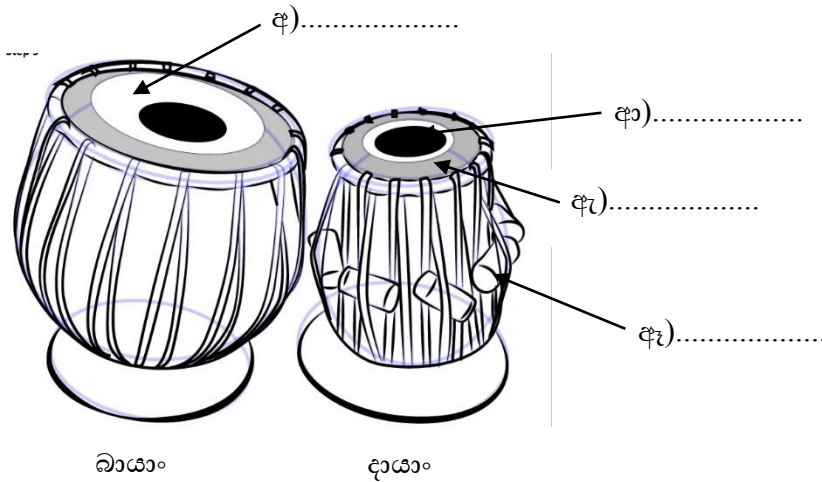
- i. රාගයක ආරෝහණයේ සහ අවරෝහණයේ ඇති ස්වර සංඛ්‍යාව අනුව තීරණය වන රාග ලක්ෂණය කුමක්ද?
- ii. හෙරවී රාගය ගායනයේ දී හා වාදනයේ දී විවාදි ස්වර ලෙස යොදා ගතහැකි ස්වර ලියා දක්වන්න.
- iii. රාත්‍රී ප්‍රථම ප්‍රභරයේ ගැයෙන වැයෙන තීවිර මධ්‍යමය යෙදෙන රාගය කුමක්ද?
- iv. ශුද්ධ ස්වර පමණක් යෙදෙන ඔෟඩව ජාතී රාගය කුමක්ද?
- v. කාල වාද්‍ය භාණ්ඩ රාශියක හඩවල් ප්‍රතිනිර්මාණය කරගත හැකි ප්‍රසංග වේදිකාවේ භාවිතා වන විද්‍යුත් සංගීත භාණ්ඩයේ නම ලියන්න.
- vi. දේශීය සංගීත භාණ්ඩ වර්ගීකරණයට අයත් වර්ග නම් කරන්න.
- vii. ප්‍රභූ වර්ත භාසා හා උපභාසයට ලක් කරමින් වර්ණවත් වෙස් මුහුණු පැළඳ රංගනයේ යෙදෙන පහතරට ජන නාට්‍ය ගෛලිය කුමක්ද?
- viii. "I have a dream" යන ගීතය ගයන ලෝක ප්‍රකට ගායක කණ්ඩායම හඳුන්වන්න.
- ix. පොතේගුරු හා අත්වැල් ගායක කණ්ඩායම වේදිකාවේ සිට ඉදිරිපත් කරන නාට්‍ය කලාව වන අතර , රඟ දක්වනු ලබන ස්ථානය..... නමින් හඳුන්වයි.
- x. රේඛාව චිත්‍රපටයේ ගී තනු නිර්මාණය මහතා විසින් සිදු කරන ලද අතර සංගීත අධ්‍යක්ෂණය මහතා විසින් සිදු කරන ලදී.

(2.) නිර්දේශිත රාගවලට අයත් රාග විස්තර ඇසුරින් පහත වගුව සැකසී ඇත.

	රාගය	මේලය (ථායිය)	ආරෝහණ අවරෝහණ	වාදී සංවාදී	ගාන සමය	මුඛ්‍යාංගය
A	භූපාලි	කළ්‍යාණ	iii.....	ග , ධ	vii.....	ගර්සධ සර්ග පග ධප ගර්ස
B	i.....	කාලි	සර්ගමපධනිස ස්නිධපමගර්ස	ප , ස	රාත්‍රී දෙවන ප්‍රහරය	ix.....
C	බ්ලාවල්	බ්ලාවල්	සර්ගමපධනිස ස්නිධපමගර්ස	v.....	දිවා ප්‍රථම ප්‍රහරය	x.....
D	හෙරවී	හෙරවී	iv.....	ම , ස	viii.....	මග්‍ර සර්ස ධුනිස
E	යමන්	ii.....	සර්ගමපධනිස ස්නිධපමගර්ස	vi.....	රාත්‍රී ප්‍රථම ප්‍රහරය	නිරි ගර්ස පම ගර්ස

- i. ඉහත වගුවෙහි හිස්තැන් වලට ගැලපෙන පිළිතුරු අදාළ ප්‍රශ්ණ අංකය ද සමග ලියා දක්වන්න. (ලකුණු 05)
- ii. **A , C සහ E** යන රාග තුන අතුරින් කැමති එක් රාගයක් නම්කර, ඊට අයත් මධ්‍යලය ගීතයක / වාදිතයක ස්ථායී කොටස, නියමිත තාල සංඥා සහිතව ස්වර ප්‍රස්තාර කර දක්වන්න. (ලකුණු 05)
- iii. **B සහ D** යන රාග දෙකෙන් කැමති එක් රාගයක් නම්කර , ඊට අදාළ මාත්‍රා 8 කට නොඅඩු වනසේ තානාලංකාර දෙකක් ලියා දක්වන්න. (ලකුණු 02)

(3.)



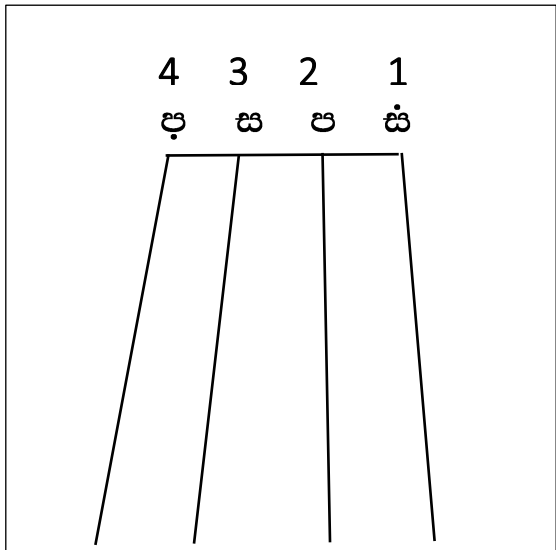
- (i) ඉහත තබ්ලාවේ රූප සටහනෙහි ඊතල වලින් දක්වා ඇති කොටස් නියමිත අක්ෂරය ද සමගින් ලියා දක්වන්න. (ලකුණු 02)
- (ii) තබ්ලාවේ කොටස් දෙකෙහි මුහුණත් රූප සටහන් ඇඳ, නා , තිං , ගෙ සහ ති යන අවනද්ධ අක්ෂර උත්පාදනය කරගන්නා ස්ථාන සලකුණු කරන්න. (ලකුණු 04)

(iii) මාත්‍රා 14 න් යුත් නිර්දේශිත හින්දුස්ථානී තාලය නම්කර, නියමිත තාල සංඥා සමගින් ප්‍රස්තාර කරන්න. (ලකුණු 03)

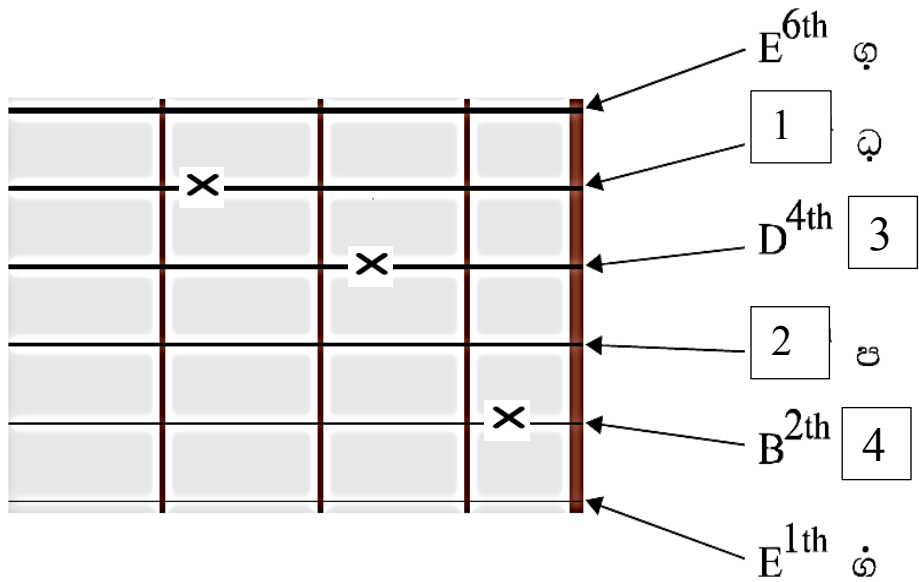
(iv.) කෙහෙර්වා තාලයේ මාත්‍රා කැට්චීමට සමාන දේශීය නිත නම්කර, ඊට අයත් බෙර පදයක් නියමිත නිත් සංඥා සමගින් ප්‍රස්තාර කරන්න. (ලකුණු 03)

(4.)

(i) පහත දක්වා ඇත්තේ වයලීනයේ තත් සුසර කරන ආකාරයකි. එය පිළිතුරු පත්‍රයේ පිටපත් කරගෙන 2 සහ 3 තත් මත රී ග ම ධ නී ස් යන ස්වර පිහිටා ඇති ස්ථාන ලකුණු කරන්න. (ලකුණු 03)



• පහත දක්වා ඇති ගිටාරයේ පර්චා පුවරුව(Fret Board) ඇසුරින් අසා ඇති ප්‍රශ්න වලට පිළිතුරු සපයන්න.



(ii) ඉහත ගීටාරයේ 1 සහ 2 අංක වලින් දක්වා ඇති තත්, නම් කරන ආකාරය සහ 3 සහ 4 අංක වලින් දක්වා ඇති තත් සුසර කරන ස්වර ඊට අදාල අංකය ද සමග ලියා දක්වන්න. (ලකුණු 04)

(iii) ඉහත කතිර සලකුණු කර ඇති ස්ථාන වල ඇගිලි තැබීමෙන් වාදනය කළ හැකි කෝඩ් (Chord) එක නම් කරන්න. (ලකුණු 02)

(iv.) සිතාර් ,එස් රාජ් සහ බටනලා වාදනයෙහි ප්‍රසිද්ධියක් උසුලන එක් ඉන්දියානු සංගීත ශිල්පියෙකු බැගින් සංගීත භාණ්ඩයේ නම ද සමග ලියා දක්වන්න. (ලකුණු 03)

(5.)

(i) පහත දී ඇති ජනගී පාද, ගැමි ගී සහ සේ ගී වශයෙන් වෙන්කර ලියා දක්වන්න. (ලකුණු 04)

- රන් දැකැති ගෙන නිති සැරසෙනවා
- දුම්බර කන්ද පාමුල මිණි රන් පතලේ
- සේවිත පාද සරෝරුහ සන්ජීනයෙන් ඉතා
- අතට වෙරළ ඇහිදගෙනේ
- පැහැසරණිය මිණි පැමිණිය කොත් අගට
- බුද්ධි සරණේ සිරස දරාගෙන
- වරමානී සුභ වරිතේ
- කොහොච් යනා හඬ නගනා

(ii) ගැමි ගී සහ සේ ගී වල දැකිය හැකි විශේෂ ලක්ෂණ හතර බැගින් ලියා දක්වන්න. (ලකුණු 03)

(iii) ඔබ කැමති වන්නමක හෝ හටන් ගීතයක මුල් කොටස ලියා දක්වන්න. (ලකුණු 02)

(iv.) “ ශාන්ත මේ රූ යාමේ දී කුමුදු මලේ සිරියා ” යන ගී පාදයේ ඇතුළත් ලඝු, ගුරු, ජලන අක්ෂර වෙන්කර ලියා දක්වන්න. (ලකුණු 03)

